

2. SINIF

YENİ NESİL DENEME SINAVI



SINAVDAKİ SORULARIN KONU DAĞILIMI

- Türkçe** : Metinde anahtar kelimeler, Okuma anlama, Harf bilgisi, Cümlelerde kelime sayısı, Hecelere ayırma, Abecesel sıralama, Eş ve zıt anlamlı kelimeler, Tek başına anlamı olmayan kelimeler, Hece Bilgisi, kelimelerle ilgili yorum, Eş, zıt ve sesteş kelimeler, Satır sonuna sığmayan kelimeler.
- Matematik** : Doğal sayılar ve temel bilgiler, Doğal sayıları okuma ve yazma, Deste ve düzine, Basamaklar, Basamak ve sayı değerleri, Ritmik saymalar, Sayı örüntüleri, Doğal sayıları yuvarlama, Toplama işlemi ve sayıları karşılaştırma, Doğal sayılar ve Toplama işlemi problemleri, Doğal sayı oluşturma
- Hayat Bilgisi** : Fiziksel özelliklerimiz, Farklılıklara saygı, Okul çantası hazırlama, Arkadaşlarımız seçerken, Okulda kullanılan kaynaklar, Arkadaşlık, Günlük plan, Çocuk oyunları, Adresimiz ve evimizi tarif etme, Evde sorumluluklarımız, Beceri özelliklerimiz, Haftalık ders programı, İhtiyaç ve isteklerimiz, Akralarımız.
- İngilizce** : Greeting and meeting people, Telling people what we know, asking someone's name
- Sınav Sorularımız** : 15 Türkçe, 15 Matematik, 15 Fen Bilimleri, 15 Hayat Bilisi ve 10 İngilizce sorudan oluşmaktadır. Her derste sorulardan 4 tanesi çok kolay, 2 tanesi kolay, 2 tanesi orta ve 2 tanesi de zor sorulardan oluşmaktadır. Her dersten beşer tane "Yeni Nesil" tarzda sorular yer almaktadır.

YÜZ YÜZE EĞİTİM

Korona virüs nedeniyle geçen yıl okuma yazmayı uzaktan eğitimle öğrenmiştik. Zor da olsa bunu başarmıştık.

Bu yıl okullarımız yüz yüze eğitime açıldı. Özlediğimiz öğretmenimize ve arkadaşlarımıza kavuştuk. Artık her gün okula gelebiliyorum. Sınıfta ders yapmak, teneffüslerde oyun oynamak çok güzel.

Bu süreçte virüs tedbirlerini ihmal etmiyoruz. Sınıfta ve diğer etkinliklerde temizliğe, maske ve sosyal mesafe kurallarına uyuyoruz. Yüz yüze eğitimi seviyoruz ve okuldan uzak kalmak istemiyoruz.

Mesut Yavuztürk

Yukarıdaki metni dikkatlice okuyup ilk iki soruyu cevaplayınız.

1- Aşağıdaki seçeneklerde verilenlerden hangisi metnin anahtar kelimelerinden biri değildir?

- A) Yüz yüze eğitim
- B) Korona virüs
- C) Öğrencilerle oyun

2- Metinle ilgili aşağıdakilerden hangisi yanlıştır?

- A) Alınan tedbirler virüsü yok etmiştir.
- B) Bu yıl okullar yüz yüze eğitime açılmıştır.
- C) Okul açık olsa da virüse karşı tedbirler devam etmektedir.

... E - F - G - Ğ - H - I - İ - J - K ...

... J - K - L - M - O - Ö - P - R - S ...

... R - S - Ş - T - U - Ü - V - Y - Z.

3- Yukarıdaki hangi şekil içindeki harfler abece sırasına uygun değildir?

- A) B) C)



4- Yukarıdaki harfleri birer kez kullanarak aşağıdaki hangi görselin adı yazılamaz?



5- Aşağıdaki hangi cümlede daha çok kelime vardır?

- A) Ada güzel şarkı söyledi.
- B) Her gün ceviz yiyorum.
- C) Ela ile Eda kitap okudu.

6- Aşağıdaki hangi bilgi doğrudur?

- A) Abecemizde 21 harf vardır.
- B) Bir hece en az 4 haflidir.
- C) 8 tane ünlü harf aynı zamanda bir harfli hecedir.

7- Aşağıdaki kelimelerden hangisi hecelerine doğru bölünmüştür?

- A) Ar-kad-aş
- B) İlk-ba-har
- C) Da-ğl-ıca



8- Yukarıdaki hangi görsel abecesel sıralamada diğerlerinden önce gelir?

- A) 
- B) 
- C) 

9- "Bu gömlek bana bol geldi."

Aşağıdaki kelimelerden hangisi yukarıdaki cümlede geçen altı çizili kelimenin eş ya da zıt anlamı değildir?

- A) Geniş
- B) Uzun
- C) Dar

10- I. Bizim ev buraya yakındır.

II. Okullar iki ay önce açıldı.

III. En çok sarı ve kırmızıyı severim.

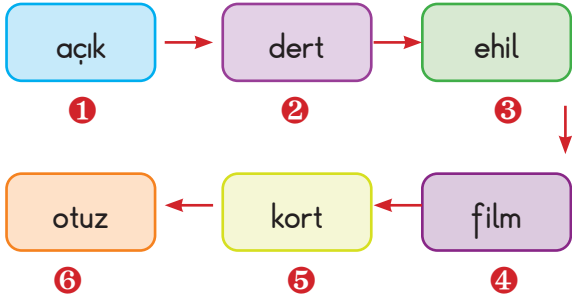
Yukarıdaki kaç numaralı cümlede altı çizili kelimenin tek başına anlamı yoktur?

- A) I
- B) II
- C) III

İki gün sonra okul
 1 2 3 4
 ara tatile girecekmış.
 5 6 7

11- Yukarıdaki panoda yazılı cümlenin kelimeleri ile ilgili aşağıdaki hangi yorum doğrudur?

- A) Cümle yedi kelime, on altı heceden oluşmuştur.
- B) 2 numaralı kelime dışında diğer bütün kelimeler satır sonuna sığmadığında uygun hecesinden bölünebilir.
- C) Cümlenin kelimeleri abecesel sıraya konulduğunda ilk sırada 5, son sırada ise 3 numaralı kelime olur.



12- Yukarıdaki sıralı kelimeler ile ilgili aşağıdaki hangi yorum yanlıştır?

- A) Kelimelerin hepsi bir hecedir.
- B) Kelimeler abecesel sıraya göre dizilmiştir.
- C) Her kelimenin harfleri abecesel sıraya uygundur.

Eş Anlam	Zıt Anlam	Eş Sesli
Doktor	Seviye	Dik
Hemşire	Aşağı	Diş
Hekim	Alt	Diz
Hasta	Yukarı	Dil
Cerrah	Alçak	Dip
Tabip	Üst	Diş

13- Yukarıdaki eş ve zıt anlamlı kelimeler kendi gruplarında anlam ilişkisi olanlar; eş sesli kelimeler ise en az iki gerçek anlam olanlar şeklinde boyanmıştır.

Buna göre hangi grupta hata yapılmıştır?

- A) Eş anlamlılarda
- B) Zıt anlamlılarda
- C) Eş seslilerde

..... aş-
ğıda ✓

..... tr-
en ✗

..... e-
gemenlik ✗

..... def-
terim ✗

..... oyu-
ncaklar ✗

..... çarşam-
ba ✗

14- Betül yukarıdaki satır sonuna sığmayan kelimeleri bulma çalışmasında, doğru olduğunu düşündüklerine ✓, yanlış olduğunu düşündüklerine ✗ işareti koymuştur.

Buna göre Betül kaç tane doğru işaretleme yapmıştır?

- A) 3
- B) 4
- C) 5

Sabah **okula** geç kalınca, **öğretmenimden** özür diledim.

15- Yukarıdaki cümle ile ilgili aşağıdakilerden hangisi söylenebilir?


- A) Cümlede dört kelimenin zıt anlamı vardır.
- B) Altı çizili kelimeler sestestir.
- C) Kırmızı ile yazılı kelimelerin eş anlamlıları vardır.

1- Aşağıdaki hangi seçenekte verilen bilgi yanlıştır?

- A) Doğal sayılar 0'dan başlar ve sonsuzdur.
B) Sayıları yazmak için 9 rakam kullanırız.
C) 10 tane bir basamaklı doğal sayı vardır.

2- Aşağıda verilen doğal sayı ve okunuşu eşleştirmelerinden hangisi doğrudur?

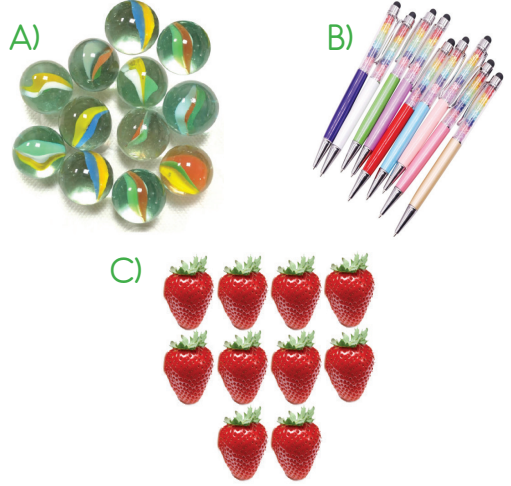
- A) 56 → Elli altı
B) 65 → Elli beş
C) 76 → Altmış yedi



3- Yukarıdaki panoda yazılı olanlar ile ilgili aşağıdakilerden hangisi söylenebilir?

- A) Bir basamaklı doğal sayılardır.
B) Hepsi bir düzinedir.
C) 10 sayısı da olsaydı rakamları oluştururdu.

4- Aşağıdaki nesne gruplarından hangisi bir deste ya da düzine değildir?



39 Basamakları	Basamak Değerleri	Sayı Değerleri
→ Birler	9 0	9
→ Onlar	3	3
■	●	▲

5- Yukarıdaki doğal sayının hangi sembolü ile eşleşen bölümünde hata yapılmıştır?

- A) ■ B) ● C) ▲

6- Aşağıdaki hangi ritmik saymadaki boşluğa 32 doğal sayısı yazılamaz?

- A) 20 - 24 - 28 - - 36 - 40
B) 8 - 16 - 24 - - 40 - 48
C) 12 - 18 - 24 - - 36 - 42

ÖRÜNTÜ

6 - 10 - 12 - 16 - 18 - A - 24 -
28 - 30 - B - 36 - 38 - 40 - 44 - ...

7- Yukarıda "6"dan başlayan örüntüde A ve B yerine aşağıdaki hangi sayı yazılmaz?

- A) 20 B) 22 C) 34

8- Aşağıdaki hangi öğrenci kendisine verilen doğal sayıyı en yakın onluğuna doğru yuvarlamıştır?

A) B) C)

Belinay: 54, 30
Ceyda: 75, 70
Atakan: 33, 30

$$\begin{array}{r} 34 \\ + 23 \\ \hline \dots\dots\dots \end{array} \quad ? \quad \begin{array}{r} 45 \\ + 12 \\ \hline \dots\dots\dots \end{array}$$

9- Yukarıdaki toplama işleminin sonuçlarına göre "?" yerine hangi sembol yazılmalıdır?

- A) > B) = C) <

10- Aşağıda yapılan hangi toplama işlemi yanlıştır?

A) $\begin{array}{r} 38 \\ + 27 \\ \hline 65 \end{array}$ B) $\begin{array}{r} 47 \\ + 39 \\ \hline 86 \end{array}$ C) $\begin{array}{r} 54 \\ + 26 \\ \hline 70 \end{array}$

Onluk Bilyeler	Birlik Bilyeler

Öğrenciler sadece yukarıdaki bilyeleri kullanarak iki basamaklı doğal sayı oluşturma oyunu oynuyorlar.

- Meliha: Ben 3 tane kırmızı, 6 tane de mavi bilye aldım.
- Mert: Ben de Meliha'dan 2 kırmızı bilye fazla, 3 eksik mavi bilye alarak doğal sayı oluşturdum.
- Mesut: Ben de diğer bilyelerden doğal sayı oluşturdum.

11- Buna göre oluşturulan doğal sayıların büyükten küçüğe sıralanışı hangi seçenekte verilmiştir?

- A) Mert > Meliha > Mesut
B) Mesut > Meliha > Mert
C) Mert > Mesut > Meliha

12- Benim iki düzine bilyem, kardeşimin ise üç deste bilyesi vardı.

Sultan ablam her ikimize de birer deste bilye verdi.

Kardeşimle oynadığımız oyunda, önce kardeşimin 8 bilyesini almaya hak kazandım. İkinci oyunumuzda ise kardeşim benden yarım düzine bilye geri kazandı.

Oyundan sonra, aşağıdakilerden hangisi kardeşimle benim bilye sayılarım olamaz?

- A) 36 B) 37 C) 38



Benim birler basamağım en büyük rakam, onlar basamağım ise yarım destedir?

13- Yukarıdaki kendini tanıtan doğal sayı ile ilgili hangi seçenekte yanlış bilgi verilmiştir?

- A) Okunuşu: Elli dokuzdur.
B) Basamak değerleri toplamı 59'dur.
C) Sayı değerleri toplamı 15'tir.


★ 3 - 4 - 6 - 9 - 13 - 18 - 24 - 31 - 39 - 49 - 60 - 72 - 85 ...

* 20 - 25 - 27 - 32 - 34 - 39 - 41 - 46 - 48 - 53 - 55 - 60 - 62 - 67...

* 24 - 30 - 36 - 42 - 48 - 54 - 60 - 66 - 72 - 78 - 84 - 90 ...

14- Yukarıdaki hangi doğal sayı örüntüsü aynı zamanda standart ritmik saymadır?

- A) * B) * C) ★



15- Yukarıdaki toplama işlemi ile ilgili aşağıdakilerden hangisi söylenemez?

- A) Eldesiz toplama işlemidir.
B) Toplamın basamak değerleri ile sayı değerleri toplamı 85'tir.
C) Toplamın en yakın onluğu 70'tir.

1- Seçeneklerde verilen hangi öğrenci sadece fiziksel özelliklerinden söz etmiştir?

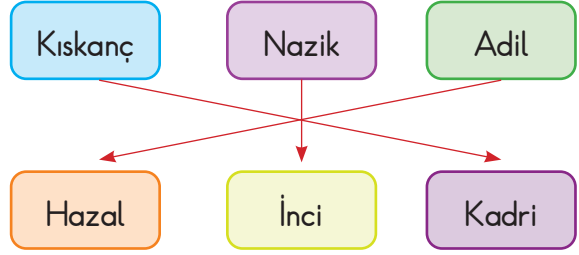
- A) Bengü: 8 yaşındayım. Kısa boylu, siyah kıvrık saçlı ve kahve gözlüyüm. Güzel resim yaparım.
- B) Berfu: Uzun boylu ve zayıfım. Beyaz tenli, kısa saçlı ve mavi gözlüyüm. Gözlük kullanıyorum.
- C) Bennu: Hafif kilolu ve orta boyluyum. Siyah uzun düz saçlarım var. Karanlıktan korkar, hayvanları severim.

2- Aşağıda verilen hangi ifade yanlıştır?

- A) Ben, benden farklı olanlarla arkadaşlık etmem.
- B) Bir konuda herkesin farklı görüşleri olabilir.
- C) Farklılıklar hayatımıza zenginlik katar.

3- "Okul çantamızı neye göre hazırlamamız gerekir?" sorusunun doğru cevabı hangi seçenekte verilmiştir?

- A) Haftalık ders programına göre
- B) Çantamda her şey bulunur.
- C) Annemizin isteklerine göre




4- Yukarıdaki eşleştirmeye göre hangisi ile arkadaşlık yapmamız doğru olmaz?

- A) Kadri B) İnci C) Hazal

- 5- () Kaynaklar sınırsızdır.
 () İşimiz bittiğinde lambaları ve musluğu kapatmalıyız.
 () Sınıftaki eşyalara zarar vermekte sakınca yoktur.
 () Okul kaynaklarını tasarruflu kullanmalıyız.

Yukarıdaki ifadeler doğru ise (D), yanlış ise (Y) yazdığımızda seçeneklerden hangisi doğru olur?

- A) (D) (D) (Y) (Y)
 B) (Y) (D) (Y) (D)
 C) (D) (Y) (D) (Y)



6- Aşağıdakilerden hangisi yukarıdaki kavramla eşleştirilemez?

- A) Birlikte olmak
 B) Kavga etmek
 C) Paylaşmak

7- Kendisine güzel bir günlük plan hazırlayan Perihan, planında bulunan aşağıdaki etkinliklerden hangisini çıkarmalıdır?

- A) Uyku ve dinlenme
- B) Konu tekrarı ve ödev yapma
- C) Hafta sonu ailece piknik



8- Yukarıda sınırları çizilmiş, büyüklerimizin de çocukluklarında oynadıkları oyunun adı nedir?

- A) Yakan top
- B) Köşe kapmaca
- C) Seksek

9- Evimizi tarif ederken aşağıdaki hangi görselin adını vermeyiz?


A)



B)



C)



10- Evde genel temizlik yapılırken ilkokul 2. sınıfa devam eden Yağmur'un sorumluluğu aşağıdakilerden hangisi olabilir?

- A) Tozları almak
- B) Perdeleri yıkamak ve ütölemek
- C) Ağır eşyaların yerlerini değiştirmek



11- Yukarıdaki görseli inceleyen öğrencilerin yorumları seçeneklerde verilmiştir.

Hangi öğrencinin yorumu doğru değildir?

- A) Kaan: Çocuk normal boyda, siyah ve kıvrıkcık saçlıdır.
- B) Mine: Çocuğun resim yapmada becerikli olduğu söylenebilir.
- C) Numan: Bu çocuk güler yüzlü ve yardımsever biridir.

HAFTALIK DERS PROGRAMI

	Pazartesi	Salı	Çarşamba	Perşembe	Cuma
1	H.Bilgisi	H.Bilgisi	Matematik	H.Bilgisi	H.Bilgisi
2	Türkçe	Türkçe	Matematik	Türkçe	Türkçe
3	Türkçe	Türkçe	Türkçe	Türkçe	Türkçe
4	Matematik	Ser. Etk.	Türkçe	Matematik	Müzik
5	Matematik	Ser. Etk.	Bed. Eğ.	Gör. San	İngilizce
6	Bed. Eğ.	Bed. Eğ.	Bed. Eğ.	Bed. Eğ.	İngilizce

12- Yukarıda 2-A sınıfı haftalık ders programı verilmiştir.

2-A sınıfı öğrencilerinden hangisinin ifadesi doğrudur?

- A) Utku: Resim defterini salı günü çantamda bulundururum.
 B) Umut: Cuma günü flütümü çantaya koymayı unutmam.
 C) Uğur: Unutmamak için abaküsümü çantamdan çıkarmıyorum.



E



F



G

13- Yukarıda harflerle eşleştirilen hangi görselde okuldaki kaynakların doğru kullanıldığı söylenebilir?

- A) E B) F C) G



14- Yukarıdaki görsellere göre aşağıdakilerden hangisi kesinlikle söylenebilir?

- A) 5 görselde temel ihtiyaçlarımız, bir görselde isteklerimiz vardır.
 B) Görseller isteklerimizi göstermektedir.
 C) Görsellerin tamamı temel ihtiyaçlarımızı oluşturur.

- 15- • Babamızın bir erkek kardeşi vardır.
 • Annemizin de sadece bir kız kardeşi vardır.
 • Sizin de sizden küçük Can adında erkek kardeşiniz var.
 • Sizin amcanızın oğlu Erkan ve teyzenizin kızı Sevinç adında iki kuzeniniz var.

Buna göre, Erkan'ın amcasının eşi sizin neyiniz olur?

- A) Teyzeniz
 B) Anneniz
 C) Dayınız

Good night



Cansu




- 1- Yukarıdaki Cansu'nun söylediği ifadenin anlamı aşağıdakilerden hangisidir?
- A) Merhaba
B) İyi geceler
C) Günaydın

- 3- Aşağıdakilerden hangisi hayvan adıdır?
- A) Lemon
B) Gitar
C) Gorilla

- 4- Aşağıdaki seçeneklerde verilen görsel-kelime eşleştirmelerinden hangisi yanlıştır?



- 5- Aşağıdakilerden hangisi "B" harfi ile başlar?



- 2- Yukarıdaki görselde yazılı olan sorunun cevabı aşağıdakilerden hangisidir?
- A) Train
B) Bus
C) Car

"Look! That
is a"



6- Yukarıdaki görsele göre verilen cümle aşağıdakilerden hangisi ile tamamlanır?

- A) school B) hotel
C) stadium



7- Yukarıdaki diyalogda Dilek'in cevabına göre, Birsen ne sormuş olabilir?

- A) How are you?
B) What is this?
C) What is your name?

d - ctör

bo - k

rob - t

8- Yukarıdaki kelimelerde bırakılan boşluklara aşağıdaki hangi harf yazılmalıdır?

- A) i B) e C) o



9- Yukarıdaki görsele göre Eren aşağıdakilerden hangisini söylemiş olabilir?

- A) Good afternoon.
B) Good morning
C) Good night

Suzan

What is your name?

Nisa

.....

10- Yukarıda Suzan'ın sorusuna Nisa hangi cevabı vermelidir?

- A) Fine, thanks.
B) That is a Nisa.
C) My name is Nisa.

İNGİLİZCE TESTİ BİTTİ.
CEVAPLARINIZI KONTROL EDİNİZ.
DENEME SINAVI BİTTİ.